

# Temat: Stany Zjednoczone – potęga gospodarcza

Nazwy punktów do lekcji i odpowiedzi przepisujemy do zeszytu. Na podstawie tekstu z podręcznika str. 140-145, który obowiązkowo przeczytaj, następnie wykonaj poniższe ćwiczenia. Otrzymane materiały po wydrukowaniu uzupełnij i wklej do zeszytu lub w zeszycie wypisz treści 5 zadań z poprawnymi odpowiedziami słownie.

- Zwróć uwagę na zawartość map ogólnogeograficznych na str. 140,
- Przeanalizuj mapę gospodarczą na str. 143
- Na końcu przeczytaj o atrakcjach USA str. 146-147
- Przeanalizuj import/eksport oraz PKB USA.

## Na dobry początek

**1** Oceń, czy podane informacje są zgodne z prawdą. Zaznacz literę P, jeśli zdanie jest prawdziwe, lub literę F – jeśli jest fałszywe.

1.	Stany Zjednoczone są największym eksporterem towarów na świecie.	P	F
2.	Stany Zjednoczone są największym importerem towarów na świecie.	P	F
3.	Stany Zjednoczone mają największy udział w tworzeniu produktu światowego brutto.	P	F
4.	Stany Zjednoczone są światowym liderem pod względem inwestycji zagranicznych.	P	F
5.	Gospodarka Stanów Zjednoczonych jest określana jako gospodarka oparta na zasobach.	P	F
6.	Stany Zjednoczone należą do największych producentów i konsumentów żywności na świecie.	P	F

Podręcznik, strona 140-145

**2** Na mapie numerami 1–9 oznaczono wybrane ośrodki przemysłu w Stanach Zjednoczonych. Podaj numery, którymi oznaczono na mapie wymienione ośrodki przemysłu. Wykonaj polecenie na podstawie atlasu geograficznego.

Seattle: \_\_\_\_\_

San Francisco: \_\_\_\_\_

Detroit: \_\_\_\_\_

San Antonio: \_\_\_\_\_

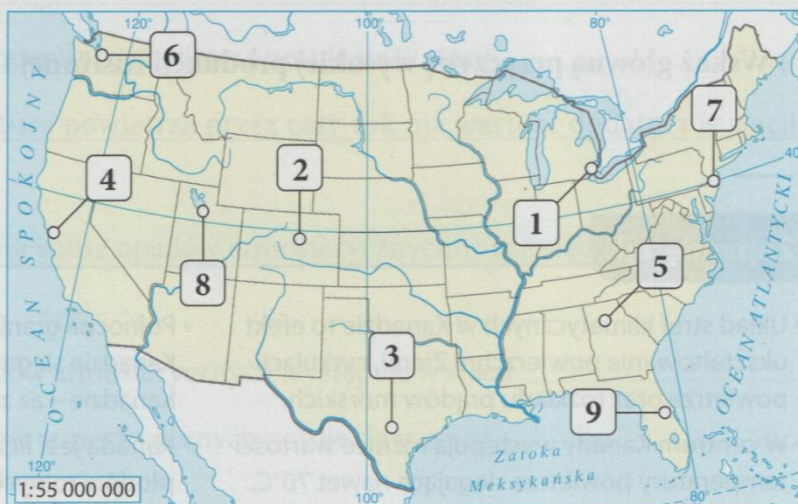
Denver: \_\_\_\_\_

Orlando: \_\_\_\_\_

Atlanta: \_\_\_\_\_

Filadelfia: \_\_\_\_\_

Salt Lake City: \_\_\_\_\_



Podręcznik, strona 140



**3** Podkreśl trzy spośród wymienionych czynników, które miały wpływ na lokalizację i rozwój Doliny Krzemowej.

- A. Położenie w pobliżu uniwersytetów i centrów badawczych.
- B. Równinna rzeźba terenu.
- C. Stosunkowo niewielka odległość od rynków zbytu.
- D. Dostęp do wysoko wykwalifikowanej kadry pracowniczej.
- E. Duża liczba bogatych i nieobawiających się ryzyka inwestorów.
- F. Bogata baza surowcowa.

Podręcznik, strona 142

**4** Skreśl zbędne wyrazy w zdaniach tak, aby podane informacje były prawdziwe.

- A. Na południu Stanów Zjednoczonych rozwinęło się rolnictwo plantacyjne nastawione na przykład na uprawę **pszenicy i owsa / bawełny i trzciny cukrowej**.
- B. W północnej części Stanów Zjednoczonych uprawia się głównie **kukurydzę i soję / bawełnę i trzcinę cukrową**.
- C. Kalifornia i Floryda to stany słynące z upraw **winorośli i owoców cytrusowych / rzepaku i buraków cukrowych**.

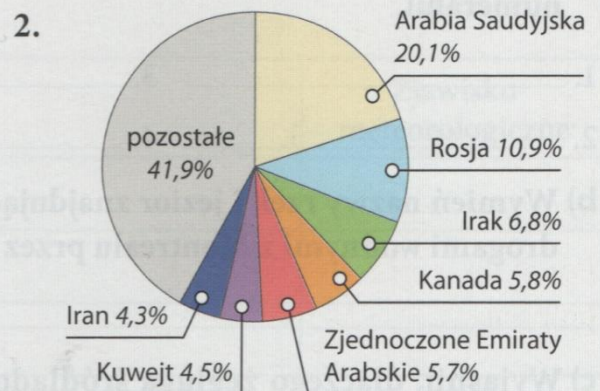
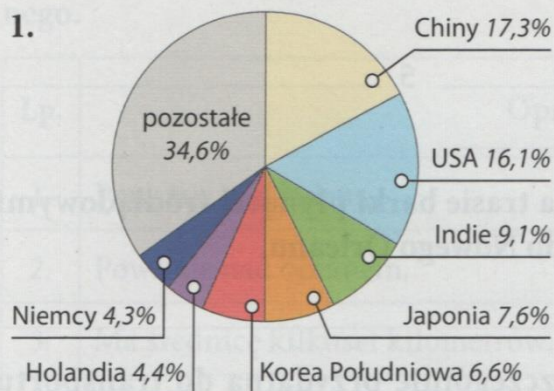
Podręcznik, strona 143, 144

**5** Na wykresach został przedstawiony udział wybranych państw w światowym eksporcie i imporcie ropy naftowej w 2016 roku.

**a)** Podpisz oba wykresy odpowiednimi określeniami spośród podanych.

Podręcznik, strona 141

eksporterzy, importerzy



Najwięksi światowi \_\_\_\_\_  
ropy naftowej w 2016 roku.

Najwięksi światowi \_\_\_\_\_  
ropy naftowej w 2016 roku.

**b)** Dokończ zdanie. Zaznacz odpowiedzi A lub B oraz 1 lub 2.

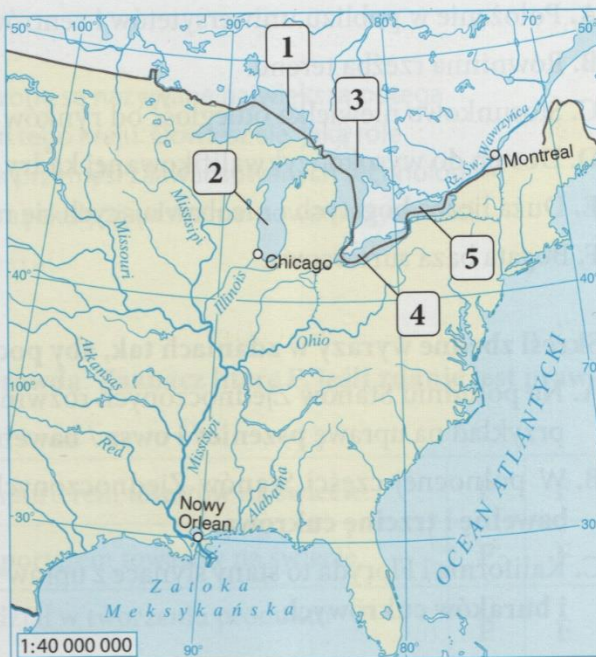
Stany Zjednoczone są jednym z głównych światowych \_\_\_\_\_

A.	eksporterów ropy naftowej,	ponieważ	1.	wydobycie tego surowca nie zaspakaja potrzeb gospodarki tego kraju.
B.	importerów ropy naftowej,		2.	wydobycie tego surowca jest większe niż zapotrzebowanie gospodarki tego kraju.



### Dla dociekliwych

Stany Zjednoczone mają bardzo dobrze rozwiniętą sieć śródlądowych dróg wodnych. Obejmuje ona ponad 40 tys. rzek i kanałów (nie wliczając w to Wielkich Jezior). Główne szlaki żeglugowe są położone w zachodniej części kraju. Obejmują system Wielkich Jezior wraz z Droga Wodną Św. Wawrzyńca oraz system rzeczny Missisipi-Missouri. Oba te systemy są połączone kanałami i pozwalają na transport śródlądowy z Zatoki Meksykańskiej do leżącego w Kanadzie półwyspu Labrador. Tym samym jest to jeden z najdłuższych szlaków żeglugowych na świecie. Śródlądowe drogi wodne są w Stanach Zjednoczonych wykorzystywane głównie do transportu towarów masowych, na przykład węgla kamiennego, ropy naftowej, drewna, zbóż i bawełny.



Najważniejsze śródlądowe drogi wodne w zachodniej części Stanów Zjednoczonych.

### 6 Wykonaj polecenia na podstawie tekstu, mapy oraz innych źródeł informacji.

a) Podaj nazwy jezior należących do systemu Wielkich Jezior, które oznaczono na mapie numerami.

1. \_\_\_\_\_ 3. \_\_\_\_\_ 5. \_\_\_\_\_

2. \_\_\_\_\_ 4. \_\_\_\_\_

b) Wymień nazwy rzek i jezior znajdujących się na trasie barki płynącej śródlądowymi drogami wodnymi z Montrealu przez Chicago do Nowego Orleanu.

\_\_\_\_\_